

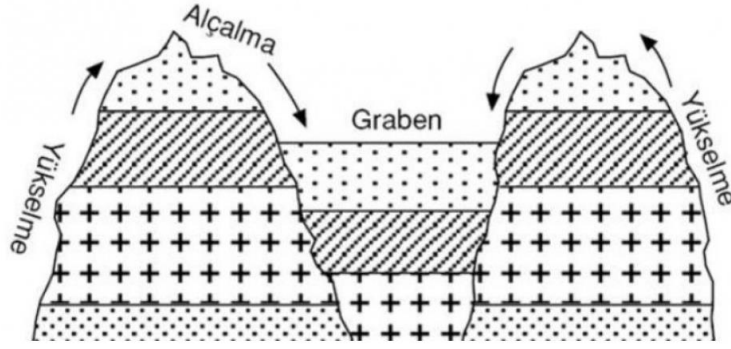
10. SINIF COĞRAFYA DERSİ 1. DÖNEM 2. ORTAK YAZILI MAZERET SINAVI

PUANLAMA ANAHTARI

1.) Kırık dağ oluşumunun şeklini çizerek oluşum sürecini yazınız. (15 puan)

CEVAP

"Dış kuvvetlerin taşıdığı malzemelerin çanaklarda(cukur alanlar, deniz tabanları...) birikmesi sonucunda, yan basınçlara uğrayarak(sıkışarak) tabakalar sert yapıdaysa (kırılgan,rijit) kırılarak yükselir. Böylece kırık dağlar oluşur. Kırık dağların yüksekte kalan kısımlarına horst(dağ, tepe), alçakta kalan kısımlara graben(çukur, çöküntü) denir. "ifadesine değinen cevaplar



Oluşum süreci: 10 Puan

Şekil : 5 Puan

2) Kireç taşlarının üzerindeki şekillerin daha uzun ömürlü olması nedeniyle ülkemizdeki karstik şekillerin büyük bir bölümü, kireç taşlarıyla kaplı arazilerde görülür. Bu arazilerin en yaygın olduğu yerler Toroslar'dır. Özellikle Göller Yöresi'nde ve Taşeli Platosu'nda karstik şekiller yaygındır.

Karstik şekillerin oluşumunda etkili olan tortul kayacın türünü ve özelliklerinden birini yazınız. (10 PUAN)

CEVAP

Kayaç türü : kimyasal tortul kayaç

Özellikleri : Suda kimyasal yolla çözünebilen(eriyeabilen) minerallerin çökerek(birikerek, sedimantasyona uğrayarak) sonucunda oluşur.

Kayaç türü : 5 puan

Kayaç özellikleri : 5 puan

3) Menderes; coğrafyada büküm yapan kıvrımlı akış gösteren nehir anlamına gelir.
Menderes şeklini oluşturan akarsuların özelliklerinden beş tanesini yazınız.
(10 PUAN)

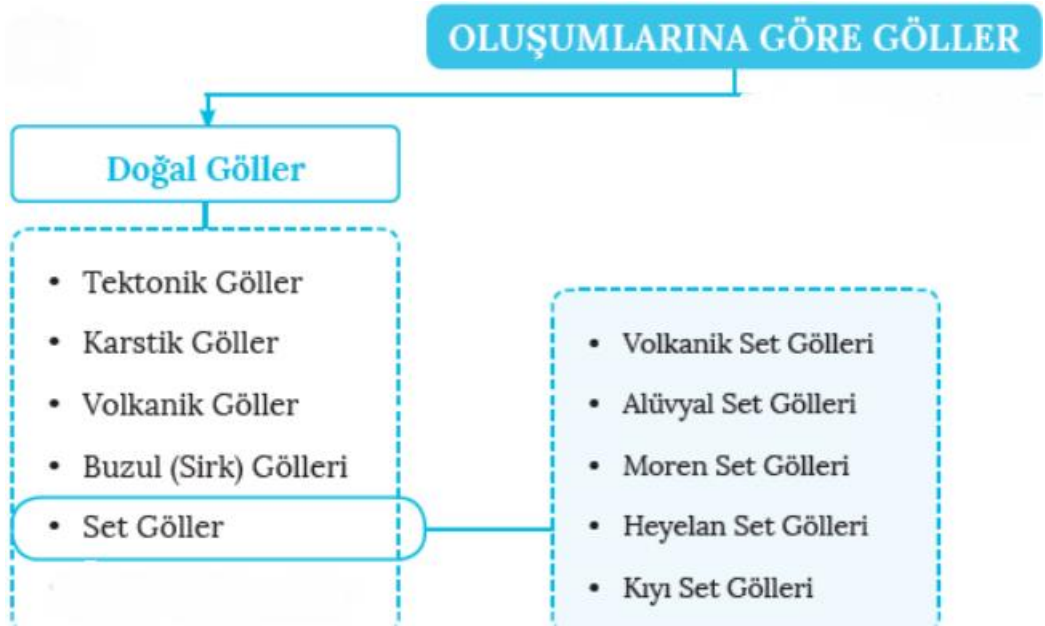
- Akarsu yatak eğimi azalır.
- Akarsu akış hızı azalır.
- Akarsu aşındırma gücü azalır.
- Akarsuyun boyu uzar.
- Akarsu biriktirme yapar.
- Hidroelektrik potansiyeli azalır.

5 x 2 = 10 puan

4) Kara üzerine çanaklaşmış alanlarda biriken durgun su kütlelerine göl denir. Göller çeşitli ölçütlere göre sınıflandırılabilir. Bunlardan en çok kullanılanı göl çanağının oluşumuna göre yapılan sınıflandırmadır. Buna göre doğal ve yapay göller olmak üzere ikiye ayrılır.

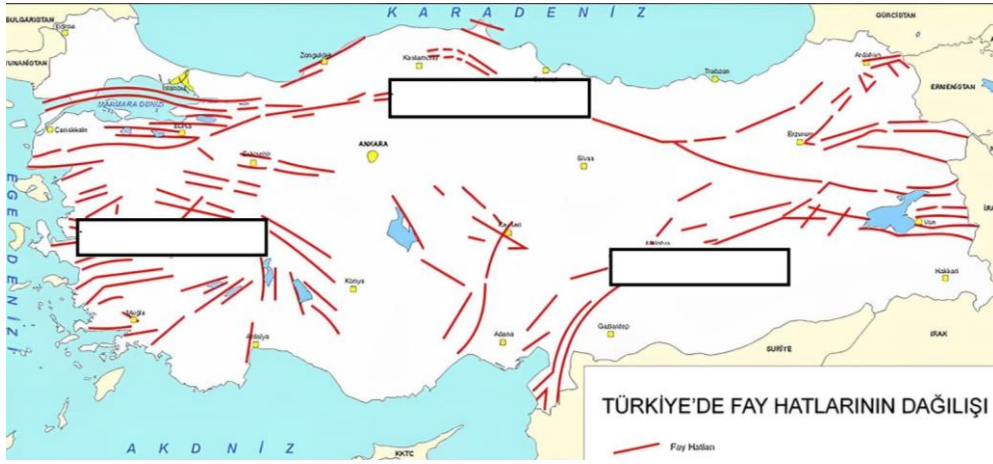
Doğal göller oluşumlarına göre şema halinde sınıflandırınız. (10 puan)

CEVAP:



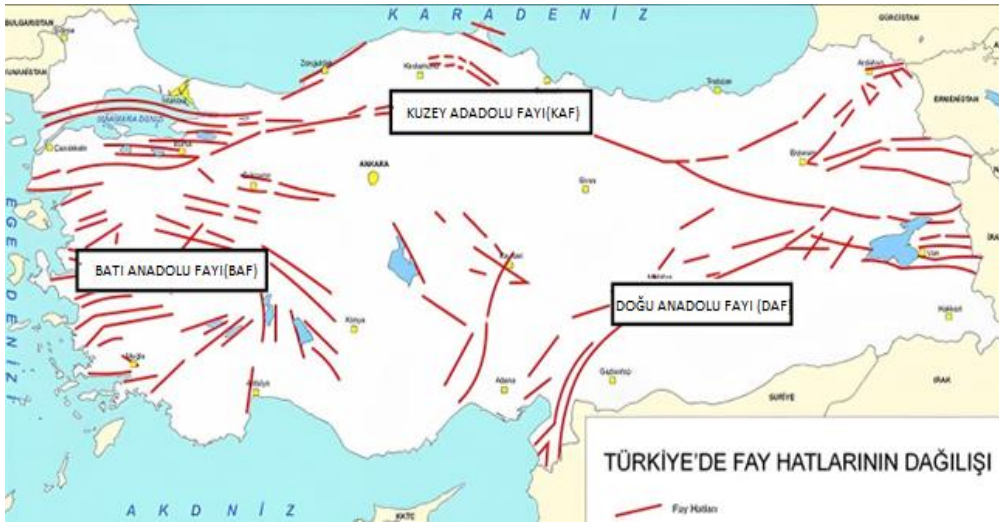
1X10 = 10 PUAN

5) Aşağıda ülkemizdeki fay hatlarını gösteren haritanın görseli verilmiştir.



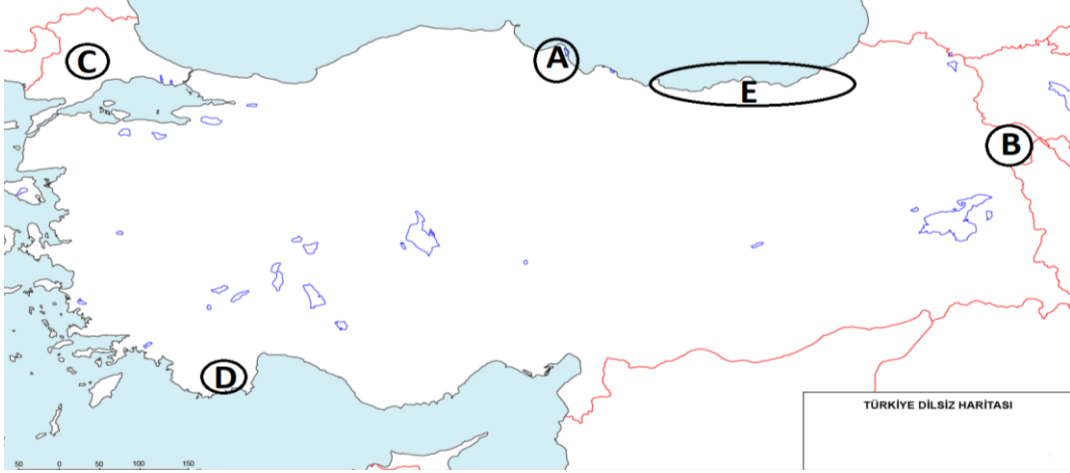
Yukarıdaki haritada bulunan **kutucuklara** o bölgeden geçen fay hattının ismini yazınız. (15 puan)

CEVAP:



Kuzey Anadolu fayı : 5 PUAN
Batı Anadolu fayı : 5 PUAN
Doğu Anadolu fayı : 5 PUAN

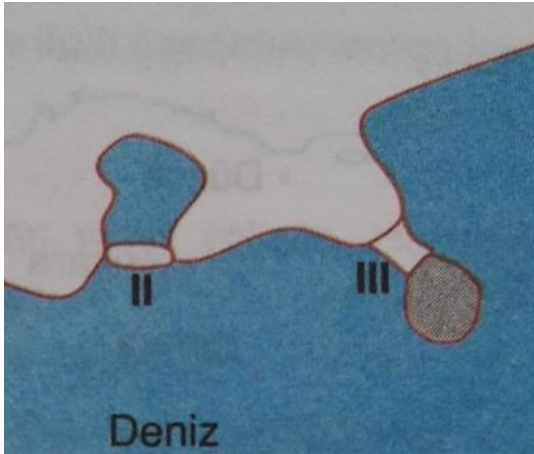
6) Aşağıdaki Türkiye haritasında harflerle gösterilen yerlerde bazı yer şekillerinin buldukları alanlar gösterilmiştir. (15 puan)



Yukarıdaki Türkiye haritasında işaretlenmiş yer şekillerinin isimlerini uygun harflerin karşısına yazınız.

- A: Bafra ovası 3 puan
B: Ağrı dağı 3 puan
C: Ergene ovası 3 puan
D: Teke platosu 3 puan
E: Boyuna kıyı tipi 3 puan

7) Tombolo ve Lagün oluşumunun şeklini çizerek oluşum sürecini yazınız.(10 puan)

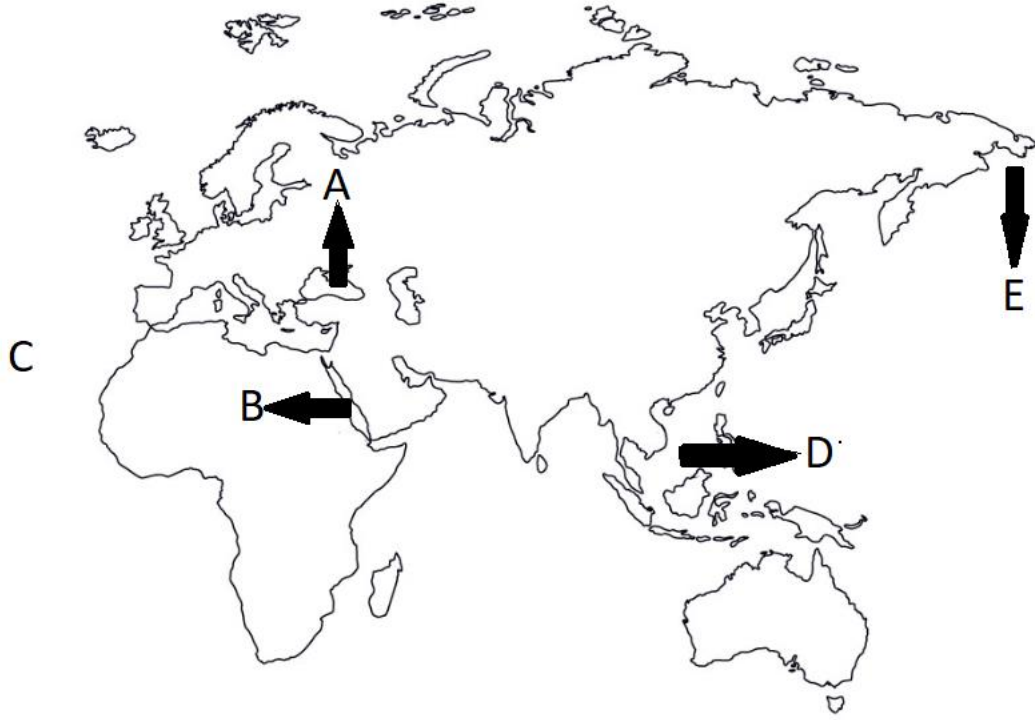


Tombolo: Kıyıya yakın bir adanın dalga biriktirmesi sonucu kıyı okları ile anakaraya bağlanmasıdır.

Lagün: Koyların önünün kıyı oku veya kıyı seti ile kapanmasıyla oluşan göllerdir.

- Şekil : 4 puan
Oluşum süreci : 6 puan

8) Aşağıdaki görselde dünya üzerindeki kara ve su kütlelerinin bir bölümüne ait görsel verilmiştir. (15 puan)



Yukarıdaki Dünya haritasında işaretlenmiş su kütlelerinin isimlerini yazınız.

- A: Karadeniz
- B: Kızıldeniz
- C: Atlas okyanusu
- D: Güney Çin denizi
- E: Bering denizi

5 x 3 = 15 puan